

Муниципальное общеобразовательное учреждение
«Репьёвская средняя школа им. Героя Советского Союза Н.Ф.Карпова»

«Согласовано»

Зам. директора по УВР

 /А.А. Тимакова

«Утверждаю»

Директор МОУ «Репьёвская СШ»

 /М.В. Фролова

Приказ № 85-Д от « 29 » августа 2023 г.



РАБОЧАЯ ПРОГРАММА

по физике 9 КЛАСС 2023 – 2024 учебный год
Базовый уровень

Планирование составлено на основе:

ФЕДЕРАЛЬНАЯ РАБОЧАЯ ПРОГРАММА ОСНОВНОГО ОБЩЕГО ОБРАЗОВАНИЯ. ФИЗИКА (базовый уровень).(для 7–9 классов образовательных организаций), Москва-2023

Учебник: Физика. 9 Базовый уровень: Учебник / А.В. Перышкин ,3–е изд. – М.: Просвещение, 2023.

Количество часов по программе: 99 часов (3 часа в неделю)

«Рассмотрено»

на школьном МО  /Л.А. Пузырева

Протокол № __1 от 29 августа_ 2023 г.

Составитель: Л.А. Пузырева,

учитель математики высшей квалификационной категории

с. Репьёвка 2023 год

Содержание учебного предмета.

9 КЛАСС

Раздел 8. Механические явления

Механическое движение. Материальная точка. Система отсчёта. Относительность механического движения. Равномерное прямолинейное движение. Неравномерное прямолинейное движение. Средняя и мгновенная скорость тела при неравномерном движении.

Ускорение. Равноускоренное прямолинейное движение. Свободное падение. Опыты Галилея.

Равномерное движение по окружности. Период и частота обращения. Линейная и угловая скорости. Центростремительное ускорение.

Первый закон Ньютона. Второй закон Ньютона. Третий закон Ньютона.

Принцип суперпозиции сил.

Сила упругости. Закон Гука. Сила трения: сила трения скольжения, сила трения покоя, другие виды трения.

Сила тяжести и закон всемирного тяготения. Ускорение свободного падения. Движение планет вокруг Солнца. Первая космическая скорость. Невесомость и перегрузки.

Равновесие материальной точки. Абсолютно твёрдое тело. Равновесие твёрдого тела с закреплённой осью вращения. Момент силы. Центр тяжести.

Импульс тела. Изменение импульса. Импульс силы. Закон сохранения импульса. Реактивное движение.

Механическая работа и мощность. Работа сил тяжести, упругости, трения. Связь энергии и работы. Потенциальная энергия тела, поднятого над поверхностью земли. Потенциальная энергия сжатой пружины. Кинетическая энергия. Теорема о кинетической энергии. Закон сохранения механической энергии.

Демонстрации

Наблюдение механического движения тела относительно разных тел отсчёта.

Сравнение путей и траекторий движения одного и того же тела относительно разных тел отсчёта.

Измерение скорости и ускорения прямолинейного движения. Исследование признаков равноускоренного

движения.

Наблюдение движения тела по окружности.

Наблюдение механических явлений, происходящих в системе отсчёта «Тележка» при её равномерном и ускоренном движении относительно кабинета физики.

Зависимость ускорения тела от массы тела и действующей на него силы. Наблюдение равенства сил при взаимодействии тел.

Изменение веса тела при ускоренном движении. Передача импульса при взаимодействии тел.

Преобразования энергии при взаимодействии тел.

Сохранение импульса при неупругом взаимодействии.

Сохранение импульса при абсолютно упругом взаимодействии. Наблюдение реактивного движения.

Сохранение механической энергии при свободном падении.

Сохранение механической энергии при движении тела под действием пружины.

Лабораторные работы и опыты

Конструирование тракта для разгона и дальнейшего равномерного движения шарика или тележки.

Определение средней скорости скольжения бруска или движения шарика по наклонной плоскости.

Определение ускорения тела при равноускоренном движении по наклонной плоскости.

Исследование зависимости пути от времени при равноускоренном движении без начальной скорости.

Проверка гипотезы: если при равноускоренном движении без начальной скорости пути относятся как ряд нечётных чисел, то соответствующие промежутки времени одинаковы.

Исследование зависимости силы трения скольжения от силы нормального давления.

Определение коэффициента трения скольжения. Определение жёсткости пружины.

Определение работы силы трения при равномерном движении тела по горизонтальной поверхности.

Определение работы силы упругости при подъёме груза с использованием неподвижного и подвижного блоков.

Изучение закона сохранения энергии.

Раздел 9. Механические колебания и волны

Колебательное движение. Основные характеристики колебаний: период, частота, амплитуда. Математический и пружинный маятники. Превращение энергии при колебательном движении.

Затухающие колебания. Вынужденные колебания. Резонанс. Механические волны. Свойства механических волн. Продольные и поперечные волны. Длина волны и скорость её распространения. Механические волны в твёрдом теле, сейсмические волны.

Звук. Громкость звука и высота тона. Отражение звука. Инфразвук и ультразвук.

Демонстрации

Наблюдение колебаний тел под действием силы тяжести и силы упругости. Наблюдение колебаний груза на нити и на пружине.

Наблюдение вынужденных колебаний и резонанса. Распространение продольных и поперечных волн (на модели). Наблюдение зависимости высоты звука от частоты.

Акустический резонанс.

Лабораторные работы и опыты

Определение частоты и периода колебаний математического маятника. Определение частоты и периода колебаний пружинного маятника. Исследование зависимости периода колебаний подвешенного к нити груза от длины нити.

Исследование зависимости периода колебаний пружинного маятника от массы груза.

Проверка независимости периода колебаний груза, подвешенного к нити, от массы груза.

Опыты, демонстрирующие зависимость периода колебаний пружинного маятника от массы груза и жёсткости пружины.

Измерение ускорения свободного падения.

Раздел 10. Электромагнитное поле и электромагнитные волны

Электромагнитное поле. Электромагнитные волны. Свойства электромагнитных волн. Шкала электромагнитных волн. Использование электромагнитных волн для сотовой связи.

Электромагнитная природа света. Скорость света. Волновые свойства света.

Демонстрации

Свойства электромагнитных волн. Волновые свойства света.

Лабораторные работы и опыты

Изучение свойств электромагнитных волн с помощью мобильного телефона.

Раздел 11. Световые явления

Лучевая модель света. Источники света. Прямолинейное распространение света. Затмения Солнца и Луны. Отражение света. Плоское зеркало. Закон отражения света.

Преломление света. Закон преломления света. Полное внутреннее отражение света. Использование полного внутреннего отражения в оптических световодах.

Линза. Ход лучей в линзе. Оптическая система фотоаппарата, микроскопа и телескопа. Глаз как оптическая система. Близорукость и дальнозоркость.

Разложение белого света в спектр. Опыты Ньютона. Сложение спектральных цветов. Дисперсия света.

Демонстрации

Прямолинейное распространение света. Отражение света.

Получение изображений в плоском, вогнутом и выпуклом зеркалах. Преломление света.

Оптический световод.

Ход лучей в собирающей линзе. Ход лучей в рассеивающей линзе.

Получение изображений с помощью линз.

Принцип действия фотоаппарата, микроскопа и телескопа. Модель глаза.

Разложение белого света в спектр.

Получение белого света при сложении света разных цветов.

Лабораторные работы и опыты

Исследование зависимости угла отражения светового луча от угла падения. Изучение характеристик изображения предмета в плоском зеркале.

Исследование зависимости угла преломления светового луча от угла падения на границе «воздух–стекло».

Получение изображений с помощью собирающей линзы.

Определение фокусного расстояния и оптической силы собирающей линзы. Опыты по разложению белого света в спектр.

Опыты по восприятию цвета предметов при их наблюдении через цветные фильтры.

Раздел 12. Квантовые явления

Опыты Резерфорда и планетарная модель атома. Модель атома Бора.
Испускание и поглощение света атомом. Кванты. Линейчатые спектры.

Радиоактивность. Альфа-, бета- и гамма-излучения. Строение атомного ядра. Нуклонная модель атомного ядра.
Изотопы. Радиоактивные превращения. Периодполураспада атомных ядер.

Ядерные реакции. Законы сохранения зарядового и массового чисел. Энергия связи атомных ядер. Связь массы и энергии. Реакции синтеза и деления ядер. Источники энергии Солнца и звёзд.

Ядерная энергетика. Действия радиоактивных излучений на живые организмы.

Демонстрации

Спектры излучения и поглощения. Спектры различных газов.

Спектр водорода.

Наблюдение треков в камере Вильсона. Работа счётчика ионизирующих излучений.

Регистрация излучения природных минералов и продуктов.

Лабораторные работы и опыты

Наблюдение сплошных и линейчатых спектров излучения.

Исследование треков: измерение энергии частицы по тормозному пути (по фотографиям).

Измерение радиоактивного фона.

Повторительно-обобщающий модуль

Повторительно-обобщающий модуль предназначен для систематизации и обобщения предметного содержания и опыта деятельности, приобретённого при изучении всего курса физики, а также для подготовки к основному государственному экзамену по физике для обучающихся, выбравших этот учебный предмет.

При изучении данного модуля реализуются и систематизируются виды деятельности, на основе которых обеспечивается достижение предметных и метапредметных планируемых результатов обучения, формируется естественно-научная грамотность: освоение научных методов исследования явлений природы и техники, овладение умениями объяснять физические явления,

применяя полученные знания, решать задачи, в том числе качественные и экспериментальные.

Принципиально деятельностный характер данного раздела реализуется за счёт того, что обучающиеся выполняют задания, в которых им предлагается:

на основе полученных знаний распознавать и научно объяснять физические явления в окружающей природе и повседневной жизни;

использовать научные методы исследования физических явлений, в том числе для проверки гипотез и получения теоретических выводов;

объяснять научные основы наиболее важных достижений современных технологий, например, практического использования различных источников энергии на основе закона превращения и сохранения всех известных видов энергии.

ПЛАНИРУЕМЫЕ РЕЗУЛЬТАТЫ ОСВОЕНИЯ ПРОГРАММЫ ПО ФИЗИКЕ НА УРОВНЕ ОСНОВНОГО ОБЩЕГО ОБРАЗОВАНИЯ

Изучение физики на уровне основного общего образования направлено на достижение личностных, метапредметных и предметных образовательных результатов.

ЛИЧНОСТНЫЕ РЕЗУЛЬТАТЫ

В результате изучения физики на уровне основного общего образования обучающегося будут сформированы следующие личностные результаты в части:

1) патриотического воспитания:

проявление интереса к истории и современному состоянию российской физической науки;
ценностное отношение к достижениям российских учёных-физиков;

2) гражданского и духовно-нравственного воспитания:

готовность к активному участию в обсуждении общественно-значимых и этических проблем, связанных с практическим применением достижений физики;

осознание важности морально-этических принципов в деятельности учёного;

3) эстетического воспитания:

восприятие эстетических качеств физической науки: её гармоничного построения, строгости, точности, лаконичности;

4) ценности научного познания:

осознание ценности физической науки как мощного инструмента познания мира, основы развития технологий, важнейшей составляющей культуры;

развитие научной любознательности, интереса к исследовательской деятельности;

5) формирования культуры здоровья и эмоционального благополучия:

осознание ценности безопасного образа жизни в современном технологическом мире, важности правил безопасного поведения на транспорте, на дорогах, с электрическим и тепловым оборудованием в домашних условиях;

сформированность навыка рефлексии, признание своего права на ошибку и такого же права у другого человека;

6) трудового воспитания:

активное участие в решении практических задач (в рамках семьи, образовательной организации, города, края) технологической и социальной направленности, требующих в том числе и физических знаний;

интерес к практическому изучению профессий, связанных с физикой;

7) экологического воспитания:

ориентация на применение физических знаний для решения задач в области окружающей среды, планирования поступков и оценки их возможных последствий для окружающей среды;

осознание глобального характера экологических проблем и путей их решения;

8) адаптации к изменяющимся условиям социальной и природной среды:

потребность во взаимодействии при выполнении исследований и проектов физической направленности, открытость опыту и знаниям других;

повышение уровня своей компетентности через практическую деятельность; потребность в формировании новых знаний, в том числе формулировать идеи,

понятия, гипотезы о физических объектах и явлениях;

осознание дефицитов собственных знаний и компетентностей в области физики;

планирование своего развития в приобретении новых физических знаний; стремление анализировать и выявлять взаимосвязи природы, общества и экономики, в том числе с использованием физических знаний; оценка своих действий с учётом влияния на окружающую среду, возможных глобальных последствий.

МЕТАПРЕДМЕТНЫЕ РЕЗУЛЬТАТЫ

В результате освоения программы по физике на уровне основного общего образования у обучающегося будут сформированы метапредметные результаты, включающие познавательные универсальные учебные действия, коммуникативные универсальные учебные действия, регулятивные универсальные учебные действия.

Познавательные универсальные учебные действия

Базовые логические действия:

выявлять и характеризовать существенные признаки объектов (явлений); устанавливать существенный признак классификации, основания для обобщения и сравнения;

выявлять закономерности и противоречия в рассматриваемых фактах, данных и наблюдениях, относящихся к физическим явлениям;

выявлять причинно-следственные связи при изучении физических явлений и процессов, делать выводы с использованием дедуктивных и индуктивных умозаключений, выдвигать гипотезы о взаимосвязях физических величин;

самостоятельно выбирать способ решения учебной физической задачи (сравнение нескольких вариантов решения, выбор наиболее подходящего с учётом самостоятельно выделенных критериев).

Базовые исследовательские действия:

использовать вопросы как исследовательский инструмент познания; проводить по составленному плану опыт, несложный физический эксперимент, небольшое исследование физического явления; оценивать на применимость и достоверность информацию, полученную в ходе исследования или эксперимента;

самостоятельно формулировать обобщения и выводы по результатам проведённого наблюдения, опыта, исследования;

прогнозировать возможное дальнейшее развитие физических процессов, а также выдвигать предположения об их развитии в новых условиях и контекстах.

Работа с информацией:

применять различные методы, инструменты и запросы при поиске и отборе информации или данных с учётом предложенной учебной физической задачи;

анализировать, систематизировать и интерпретировать информацию различных видов и форм представления;

самостоятельно выбирать оптимальную форму представления информации и иллюстрировать решаемые задачи несложными схемами, диаграммами, иной графикой и их комбинациями.

Коммуникативные универсальные учебные действия:

в ходе обсуждения учебного материала, результатов лабораторных работ и проектов задавать вопросы по существу обсуждаемой темы и высказывать идеи, нацеленные на решение задачи и поддержание благожелательности общения;

сопоставлять свои суждения с суждениями других участников диалога, обнаруживать различие и сходство позиций;

выражать свою точку зрения в устных и письменных текстах;

публично представлять результаты выполненного физического опыта (эксперимента, исследования, проекта).

понимать и использовать преимущества командной и индивидуальной работы при решении конкретной физической проблемы;

принимать цели совместной деятельности, организовывать действия по её достижению: распределять роли, обсуждать процессы и результаты совместной работы, обобщать мнения нескольких людей;

выполнять свою часть работы, достигая качественного результата по своему направлению и координируя свои действия с другими членами команды;

оценивать качество своего вклада в общий продукт по критериям, самостоятельно сформулированным участниками взаимодействия.

Регулятивные универсальные учебные действия

Самоорганизация:

выявлять проблемы в жизненных и учебных ситуациях, требующих для решения физических знаний; ориентироваться в различных подходах принятия решений (индивидуальное, принятие решения в группе, принятие решений группой);

самостоятельно составлять алгоритм решения физической задачи или плана исследования с учётом имеющихся ресурсов и собственных возможностей, аргументировать предлагаемые варианты решений;

делать выбор и брать ответственность за решение.

Самоконтроль, эмоциональный интеллект:

давать адекватную оценку ситуации и предлагать план её изменения;

объяснять причины достижения (недостижения) результатов деятельности, давать оценку приобретённому опыту;

вносить коррективы в деятельность (в том числе в ход выполнения физического исследования или проекта) на основе новых обстоятельств, изменившихся ситуаций, установленных ошибок, возникших трудностей;

оценивать соответствие результата цели и условиям.

ставить себя на место другого человека в ходе спора или дискуссии на научную тему, понимать мотивы, намерения и логику другого.

признавать своё право на ошибку при решении физических задач или в утверждениях на научные темы и такое же право другого.

ПРЕДМЕТНЫЕ РЕЗУЛЬТАТЫ

К концу обучения в **9 классе** предметные результаты на базовом уровне должны отражать сформированность у обучающихся умений:

использовать понятия: система отсчёта, материальная точка, траектория, относительность механического движения, деформация (упругая, пластическая), трение, центростремительное ускорение, невесомость и перегрузки, центр тяжести, абсолютно твёрдое тело, центр тяжести твёрдого тела, равновесие, механические колебания и волны, звук, инфразвук и ультразвук, электромагнитные волны, шкала электромагнитных волн, свет, близорукость и дальновидность, спектры испускания и поглощения, альфа-, бета- и гамма-излучения, изотопы, ядерная энергетика;

различать явления (равномерное и неравномерное прямолинейное движение, равноускоренное прямолинейное

движение, свободное падение тел, равномерное движение по окружности, взаимодействие тел, реактивное движение, колебательное движение (затухающие и вынужденные колебания), резонанс, волновое движение, отражение звука, прямолинейное распространение, отражение и преломление света, полное внутреннее отражение света, разложение белого света в спектр и сложение спектральных цветов, дисперсия света, естественная радиоактивность, возникновение линейчатого спектра излучения) по описанию их характерных свойств и на основе опытов, демонстрирующих данное физическое явление;

распознавать проявление изученных физических явлений в окружающем мире (в том числе физические явления в природе: приливы и отливы, движение планет Солнечной системы, реактивное движение живых организмов, восприятие звуков животными, землетрясение, сейсмические волны, цунами, эхо, цвета тел, оптические явления в природе, биологическое действие видимого, ультрафиолетового и рентгеновского излучений, естественный радиоактивный фон, космические лучи, радиоактивное излучение природных минералов, действие радиоактивных излучений на организм человека), при этом переводить практическую задачу в учебную, выделять существенные свойства (признаки) физических явлений;

описывать изученные свойства тел и физические явления, используя физические величины (средняя и мгновенная скорость тела при неравномерном движении, ускорение, перемещение, путь, угловая скорость, сила трения, сила упругости, сила тяжести, ускорение свободного падения, вес тела, импульс тела, импульс силы, механическая работа и мощность, потенциальная энергия тела, поднятого над поверхностью земли, потенциальная энергия сжатой пружины, кинетическая энергия, полная механическая энергия, период и частота колебаний, длина волны, громкость звука и высота тона, скорость света, показатель преломления среды), при описании правильно трактовать физический смысл используемых величин, обозначения и единицы физических величин, находить формулы, связывающие данную физическую величину с другими величинами, строить графики изученных зависимостей физических величин;

характеризовать свойства тел, физические явления и процессы, используя закон сохранения энергии, закон всемирного тяготения, принцип суперпозиции сил, принцип относительности Галилея, законы Ньютона, закон сохранения импульса, законы отражения и преломления света, законы сохранения зарядового и массового чисел при ядерных реакциях, при этом давать словесную формулировку закона и записывать его математическое выражение;

объяснять физические процессы и свойства тел, в том числе и в контексте ситуаций практико-ориентированного характера: выявлять причинно-следственные связи, строить объяснение из 2–3 логических шагов с опорой на 2–3 изученных свойства физических явлений, физических законов или закономерностей;

решать расчётные задачи (опирающиеся на систему из 2–3 уравнений), используя законы и формулы, связывающие физические величины: на основе анализа условия задачи записывать краткое условие, выявлять недостающие или избыточные данные, выбирать законы и формулы, необходимые для решения, проводить расчёты и оценивать реалистичность полученного значения физической величины;

распознавать проблемы, которые можно решить при помощи физических методов, используя описание исследования, выделять проверяемое предположение, оценивать правильность порядка проведения исследования, делать выводы, интерпретировать результаты наблюдений и опытов;

проводить опыты по наблюдению физических явлений или физических свойств тел (изучение второго закона Ньютона, закона сохранения энергии, зависимость периода колебаний пружинного маятника от массы груза и жёсткости пружины и независимость от амплитуды малых колебаний, прямолинейное распространение света, разложение белого света в спектр, изучение свойств изображения в плоском зеркале и свойств изображения предмета в собирающей линзе, наблюдение сплошных и линейчатых спектров излучения): самостоятельно собирать установку из избыточного набора оборудования, описывать ход опыта и его результаты, формулировать выводы;

проводить при необходимости серию прямых измерений, определяя среднее значение измеряемой величины (фокусное расстояние собирающей линзы), обосновывать выбор способа измерения (измерительного прибора);

проводить исследование зависимостей физических величин с использованием прямых измерений (зависимость пути от времени при равноускоренном движении без начальной скорости, периода колебаний математического маятника от длины нити, зависимости угла отражения света от угла падения и угла преломления от угла падения): планировать исследование, самостоятельно собирать установку, фиксировать результаты полученной зависимости физических величин в виде таблиц и графиков, делать выводы по результатам исследования;

проводить косвенные измерения физических величин (средняя скорость и ускорение тела при равноускоренном движении, ускорение свободного падения, жёсткость пружины, коэффициент трения скольжения, механическая работа и мощность, частота и период колебаний математического и пружинного маятников, оптическая сила собирающей линзы, радиоактивный фон): планировать измерения, собирать экспериментальную установку и выполнять измерения, следуя предложенной инструкции, вычислять значение величины и анализировать полученные результаты с учётом заданной погрешности измерений;

соблюдать правила техники безопасности при работе с лабораторным оборудованием;

различать основные признаки изученных физических моделей: материальная точка, абсолютно твёрдое тело, точечный источник света, луч, тонкая линза, планетарная модель атома, нуклонная модель атомного ядра;

характеризовать принципы действия изученных приборов и технических устройств с опорой на их описания (в том числе: спидометр, датчики положения, расстояния и ускорения, ракета, эхолот, очки, перископ, фотоаппарат, оптические световоды, спектроскоп, дозиметр, камера Вильсона), используя знания о свойствах физических явлений и необходимые физические закономерности;

использовать схемы и схематичные рисунки изученных технических устройств, измерительных приборов и технологических процессов при решении учебно-практических задач, оптические схемы для построения изображений в плоском зеркале и собирающей линзе;

приводить примеры (находить информацию о примерах) практического использования физических знаний в повседневной жизни для обеспечения безопасности при обращении с приборами и техническими устройствами, сохранения здоровья и соблюдения норм экологического поведения в окружающей среде;

осуществлять поиск информации физического содержания в Интернете, самостоятельно формулируя поисковый запрос, находить пути определения достоверности полученной информации на основе имеющихся знаний и дополнительных источников;

использовать при выполнении учебных заданий научно-популярную литературу физического содержания, справочные материалы, ресурсы сети Интернет, владеть приёмами конспектирования текста, преобразования информации из одной знаковой системы в другую;

создавать собственные письменные и устные сообщения на основе информации из нескольких источников физического содержания, публично представлять результаты проектной или исследовательской деятельности, при этом грамотно использовать изученный понятийный аппарат изучаемого раздела физики и сопровождать выступление презентацией с учётом особенностей аудитории сверстников.

Тематическое планирование

по физике для 9 класса составлено с учетом **рабочей программы воспитания**. Воспитательный потенциал данного учебного предмета обеспечивает реализацию следующих целевых приоритетов воспитания обучающихся:

1. к знаниям как интеллектуальному ресурсу, обеспечивающему будущее человека, как результату кропотливого, но увлекательного учебного труда;
2. к природе как источнику жизни на Земле, основе самого ее существования, нуждающейся в защите и постоянном внимании со стороны человека.
3. опыта самостоятельного приобретения новых знаний, проведения научных исследований, опыта проектной деятельности.

№ п/п	Наименование раздела, темы	Общее количество часов	Количество часов, отведенных на		
			контрольные работы	практические работы	проектную и исследовательскую деятельность
1	Механическое движение и способы его описания	10	1	1	0
2	Взаимодействие тел	20		2	1
3	Законы сохранения	10			0
4	Механические колебания	7	1	1	0
5	Механические волны. Звук	8			0
6	Электромагнитное поле и электромагнитные волны	6			0
7	Законы распространения света	6			
8	Линзы и оптические приборы	6		1	

9	Разложение белого света в спектр	3		1	
10	Испускание и поглощение света атомом	3			
11	Строение атомного ядра	7		3	0
12	Ядерные реакции	4			
13	Повторение и обобщение содержания курса физики за 7–9 классы	9	1		
	Всего	99	3	9	1

Приложение

Тематическое планирование.

№ п/п	Содержание материала	Количество часов
1	Вводный инструктаж по Т.Б. Механическое движение. Материальная точка. Система отсчёта.	1
2	Траектория. Путь. Перемещение. Определение координаты движущегося тела.	1
3	Перемещение при прямолинейном равномерном движении. Входная контрольная работа	1
4	Графическое представление прямолинейного равномерного движения. Решение задач на прямолинейное равномерное движение.	1
5	Прямолинейное равноускоренное движение. Ускорение.	1
6	Скорость равноускоренного прямолинейного движения. График скорости. Решение задач на прямолинейное равноускоренное движение.	1
7	Путь и перемещение при равноускоренном движении.	1
8	Перемещение тела при прямолинейном равноускоренном движении без начальной скорости.	1
9	Скорость при криволинейном движении	1
10	Лабораторная работа №1 «Исследование равноускоренного движения без начальной скорости».	1
11	Относительность механического движения.	1
12	Инерциальные системы отсчета. Первый закон Ньютона.	1
13-14	Второй закон Ньютона.	2
15	Третий закон Ньютона.	1
16-18	Свободное падение.	3
19	Лабораторная работа №2 «Измерение ускорения свободного падения»	1
20	Закон Всемирного тяготения.	1
21-22	Ускорение свободного падения на Земле и других небесных телах.	2
23	Сила упругости	1
24	Лабораторная работа № 3 «Определение жесткости пружины»	1
25	Вес тела, движущегося с ускорением	1
26	Сила трения	1
27	Динамика криволинейного движения	1
28	Искусственные спутники Земли.	1
29	Условия равновесия тел.	1
30	Виды равновесия тел	1
31	Импульс. Закон сохранения импульса	1
32-33	Решение задач на закон сохранения импульса.	2
34	Реактивное движение. Вывод закона сохранения закона механической энергии.	1
35	Повторение и обобщение материала по теме «Законы Ньютона. Закон сохранения импульса»	1
36-37	Работа силы. Мощность	2

38	Потенциальная и кинетическая энергия	1
39	Промежуточная контрольная работа	1
40	Закон сохранения механической энергии	1
41	Механические колебания. Колебательные системы. Свободные колебания.	1
42	Величины, характеризующие колебательное движение. Периоды колебаний различных маятников.	1
43	Затухающие и вынужденные колебания. Резонанс.	1
44	Лабораторная работа № 4 «Исследование зависимости периода и частоты свободных колебаний математического маятника от его длины».	1
45-47	Решение задач на колебательное движение.	3
48	Распространение колебаний в среде. Механические волны. Виды волн.	1
49	Длина волны. Скорость распространения волны.	1
50	Решение задач на определение длины волны.	1
51	Источники звука. Звуковые колебания.	1
52	Высота и тембр звука. Громкость звука.	1
53	Распространение звука. Скорость звука.	1
54	Отражение звука. Эхо. Решение задач. Звуковой резонанс.	1
55	Решение задач по теме «Механические колебания и волны».	1
56	Электромагнитное поле.	1
57	Электромагнитные волны.	1
58	Решение задач «Электромагнитные волны»	1
59	Диапазоны электромагнитных волн	1
60-61	Развитие взглядов на природу света.	2
62	Источники света. Распространение света	1
63	Отражение света. Закон отражения света	1
64	Плоское зеркало	1
65	Преломление света. Закон преломления света	1
66	Полное внутреннее отражение	1
67	Решение задач	1
68-69	Линзы. Оптическая сила линзы.	2
70-71	Изображения, даваемые линзой	2
72-73	Глаз и зрение. Оптические приборы	2
74	Дисперсия света. Цвета тел.	1
75	Типы оптических спектров. Поглощение и испускание света атомами.	1
76	Лабораторная работа № 6 «Наблюдение сплошного и линейчатого спектров испускания»	1
77	Радиоактивность как свидетельство сложного строения атома. Модели атомов.	1
78	Поглощение и испускание света атомами	1
79	Радиоактивные превращения атомных ядер.	1
80	Экспериментальные методы исследования частиц	1
81	Экспериментальные методы исследования частиц. Лабораторная работа № 7 «Измерение естественного радиационного фона дозиметром»	1
82	Открытие протона. Открытие нейтрона	1
83	Состав атомного ядра. Массовое число. Зарядовое число. Ядерные силы.	1
84	Энергия связи. Дефект масс	1

85	Деление ядер урана. Цепная реакция. Лабораторная работа № 8. «Изучение деления ядер урана по фотографиям треков».	1
86	Решение задач. Лабораторная работа №9 «Изучение треков заряженных частиц по готовым фотографиям»	1
87	Ядерный реактор. Преобразование внутренней энергии ядер в электрическую энергию.	1
88	Атомная энергетика.	1
89	Биологическое действие радиации.	1
90	Термоядерная реакция	1
91-92	Повторение «Законы движения и взаимодействия»	2
93-94	Повторение «Законы движения и взаимодействия»	2
95	Повторение «Механические колебания и волны»	1
96	Повторение «Электромагнитное поле. Электромагнитные колебания и волны»	1
97	Повторение «Строение атома и атомного ядра»	1
98	Итоговая контрольная работа.	1
99	Анализ итоговой контрольной работы. Итоговый урок	1

КОМЫ

Спецификация КИМ

для проведения входной контрольной работы за курс 8 класса

Назначение контрольной работы: оценить уровень освоения учащимися 8 класса содержания курса физики.

Содержание контрольных измерительных заданий определяется содержанием рабочей программы по учебному предмету «физика», а также содержанием учебника для общеобразовательных учреждений под редакцией А.В. Пёрышкина.

Контрольная работа состоит из 11 заданий: 9 - задания базового уровня, 2 - повышенного.

**Распределение заданий по уровням сложности,
проверяемым элементам предметного, метапредметного содержания,
уровню подготовки, типам заданий и времени выполнения**

№ задания	уровень	Что проверяется	Тип задания	Примерное время выполнения задания
A1	Базовый	1.2.4, 2.2.1, 2.2.3	Тест с выбором ответа	1 мин
A2	Базовый	1.2.5, 2.2.1, 2.2.3	Тест с выбором ответа	1 мин
A3	Базовый	1.2.6, 2.2.4	Тест с выбором ответа	5 мин
A4	Базовый	1.2.8, 2.2.1, 2.2.4	Тест с выбором ответа	5 мин
A5	Базовый	1.2.11, 2.2.1	Тест с выбором ответа	1 мин
A6	Базовый	1.3.7, 2.2.3	Тест с выбором ответа	2 мин
A7	Базовый	1.3.8, 2.2.4	Тест с выбором ответа	3 мин
A8	Базовый	1.3.11, 2.2.3	Тест с выбором ответа	3 мин
B9	Базовый	1.5.3, 2.2.2	Задание на соответствие, множественный выбор	2 мин

C10	Повышенный	1.2.6, 1.3.9, 2.2.4	Расчётная задача с развёрнутым решением	10 мин
C11	Повышенный	1.3.19, 2.2.4	Расчётная задача с развёрнутым решением	7 мин

На выполнение 13 заданий отводится 40 минут. Контрольная работа составлена в 2-х вариантах. Каждому учащемуся предоставляется распечатка заданий.

Задания в контрольной работе оцениваются в зависимости от сложности задания разным количеством баллов, указанных в таблице.

№ задания	Количество баллов
1 - 8	1 балл – правильный ответ 0 баллов – неправильный ответ
9	Максимальное количество баллов -2 Правильно распределено 3 понятия - 2 балла Правильно распределено 2 понятия - 1 балл Правильно распределено 1 понятие - 0 баллов
10,11	Максимальное количество баллов за каждое задание – 3 Если: – полностью записано условие, – содержатся пояснения решения, – записаны формулы, – записан перевод единиц измерения в СИ, – вычисления выполнены верно, – записан подробный ответ – 3 балла Если: – записано условие, – отсутствуют пояснения решения, – записаны формулы, – не записан перевод единиц измерения в СИ, – вычисления выполнены верно, – записан ответ – 2 балла Если: – записано условие, – отсутствуют пояснения решения, – записаны формулы, – не записан перевод единиц измерения в СИ, – содержится вычислительная ошибка, не искажающая грубо результат, – записан ответ – 1 балл Если ход решения не верный, но присутствует правильный ответ – 0 баллов Если: – проведена гл. оптическая ось – изображены правильно линзы, – обозначены фокусы,

	<ul style="list-style-type: none"> – точно проведены лучи, дополнительные оси, плоскости, – обозначены точки пересечения лучей, – подписаны дополнительные линии, – указано изображение точки – 3 балла <p>Если:</p> <ul style="list-style-type: none"> – проведена гл. оптическая ось – изображены правильно линзы, – обозначены фокусы, – проведены лучи, дополнительные оси, плоскости, – обозначены точки пересечения лучей, – указано изображение предмета – 2 балла <p>Если:</p> <ul style="list-style-type: none"> – проведена гл. оптическая ось – изображены правильно линзы, – обозначены фокусы, – лучи, дополнительные оси, плоскости проведены небрежно, – точки пересечения лучей обозначены неточно, – изображение предмета указано с погрешностью – 1 балл <p>Если построение не позволяет определить положение изображения – 0 баллов</p>
Оценка правильности выполнения задания	Оценка правильности выполнения задания (регулятивное УУД): после проверки работы учителем попросить проверить - учащихся свои работы, сверяя их с эталоном ответов (умение оценивать правильность выполнения учебной задачи). Соотнести с отметкой учителя, прокомментировать результат выполнения задания. Данное задание оценивается, но в баллы и отметку не переводится.
Итого	16 баллов

Перевод баллов к 5-балльной отметке

Баллы	Отметка
16-14	5
13 - 11	4
10 - 8	3
меньше 8	2

Показатели уровня освоения каждым обучающимся содержания курса физики 8 класса

Код требования к уровню подготовки	№ задания контрольной работы	Предметный результат не сформирован	Предметный результат сформирован на базовом уровне	Предметный результат сформирован на повышенном уровне
3.1.2	A1, A3, A4, A6, A7, C10, C11	Выполнено два задания части А	Выполнено четыре задания части А	Выполнены полностью задания С
3.1.3	A6, A10	Выполнено одно задание	Выполнены оба задания	
3.1.4	A2, A8	Выполнено одно задание	Выполнены оба задания	

3.2.6	B9, C12, C13	Задание не выполнено	Выполнено задание В	Выполнено одно задание части С
3.3	A3, A4, A5, A6, A7, C10, C11	Выполнено два задания части А	Выполнено полностью задание части А	Выполнено одно задание части С
3.4.1	A1, A2, A4, A5, A8, B9	Выполнено два задания части А	Выполнено задание части А	
3.5.1	A5, B9, C10	Задание А5, В9 не выполнено	Выполнено задание А5, В9	Задание выполнено полностью

Показатели сформированности у обучающихся метапредметных умений

Код метапредметного результата	№ задания контрольной работы	Продемонстрировал сформированность	Не продемонстрировал сформированность
2.2.1	A1, A2, A4, A5	Выполнено три задания	Выполнено меньше трёх заданий
2.2.2	B9	Задание выполнено	Не выполнено задание
2.2.3	A1, A2, A6, A8	Выполнены три задания	Выполнено меньше трёх заданий части А
2.2.4	A3, A4, A7, C10, C11	Выполнены три задания части А	Выполнено меньше трёх заданий части А
2.2.6	Оценка правильности выполнения задания	Результаты обучения учащимися комментируются и аргументируются	Результаты в большинстве случаев учащимися не комментируются

Входная контрольная работа

Вариант 1

Уровень А

1. Внутреннюю энергию тела можно изменить только при теплопередаче. Верно ли это утверждение?
 - 1) нет, внутреннюю энергию тела можно изменить только при совершении механической работы
 - 2) да, абсолютно верно
 - 3) нет, внутреннюю энергию тела изменить нельзя
 - 4) нет, внутреннюю энергию тела можно изменить и при совершении механической работы, и при теплопередаче
2. Какой вид теплопередачи сопровождается переносом вещества?

А. Теплопроводность. Б. Излучение. В. Конвекция.
3. Как называют количество теплоты, которое выделяется при отвердевании 1 кг жидкости при температуре плавления?
 - 1) удельная теплоемкость
 - 2) удельная теплота сгорания
 - 3) удельная теплота плавления
 - 4) удельная теплота парообразования
4. Какое количество теплоты необходимо сообщить воде массой 1 кг, чтобы нагреть ее от 10 °С до 60 °С? (Удельная теплоемкость воды 4200 Дж/кг°С.)

- 1) 21 кДж 2) 42 кДж 3) 210 кДж 4) 420 кДж

5. При конденсации воды выделилось 6900 кДж энергии. Какое количество воды получилось при этом?

(Удельная теплота парообразования воды $2,3 \cdot 10^6$ Дж/кг.)

1) 1,5 кг 2) 3 кг
3) 3450 кг 4) 0,3 кг

6. Двигатель внутреннего сгорания совершил полезную работу, равную 230 кДж, а энергия, выделившаяся при сгорании бензина, оказалась равной 920 кДж. Чему равен КПД двигателя? 1) 20% 2) 25% 3) 30% 4) 35%

7. Определите силу тока в реостате сопротивлением 650 Ом при включении его в цепь напряжением 12 В.

- 1) 54 А 2) 662 А 3) $\approx 0,02$ А 4) 0,5 А

8. В лампочке карманного фонарика ток равен 0,2 А. Определите энергию, потребляемую лампочкой за 2 мин, если напряжение в ней равно 2,5 В.

- 1) 1 Дж 2) 6 Дж 3) 10 Дж 4) 60 Дж

9. Какое утверждение верно?

А. Северный полюс магнитной стрелки компаса показывает на географический Северный полюс.

Б. Вблизи географического Северного полюса располагается южный магнитный полюс Земли.

- 1) А 2) Б 3) А и Б 4) Ни А ни Б

Уровень В

10. Установите соответствие между измерительными приборами и физическими величинами, которые с их помощью можно измерить. К каждой позиции первого столбца подберите соответствующую позицию второго и запишите в таблицу выбранные цифры под соответствующими буквами.

ИЗМЕРИТЕЛЬНЫЕ ПИБОРЫ

- А) амперметр
Б) вольтметр
В) омметр

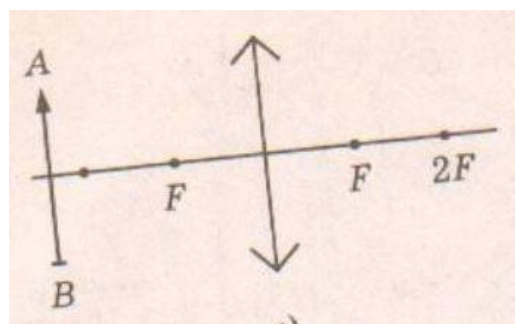
ФИЗИЧЕСКИЕ ВЕЛИЧИНЫ

- 1) напряжение
2) сопротивление
3) мощность
4) сила тока
5) работа электрического тока

А	Б	В

Уровень С

11. В электрическом чайнике мощностью 1200 Вт содержится 3 л воды при температуре 25°C . Сколько времени потребуется для нагревания воды до



100 °С? Потери энергии не учитывать.
Удельная теплоёмкость воды 4200 Дж/кг°С, плотность
воды 1000 кг/м³

12. Оптическая сила изображенной на рисунке линзы 4 дптр. Определите её фокусное расстояние. Постройте изображение предмета.

Кодификатор

элементов содержания и требований к уровню подготовки обучающихся для проведения промежуточной контрольной работы по физике по теме «Динамика»

в 9 классе

Предмет: «физика» 9 класс

Учебник для общеобразовательных учреждений под редакцией А.В. Пёрышкина, Е.М. Гутника Вид контроля: текущий (тематический)

Тема: «Динамика»

1. Перечень элементов предметного содержания, проверяемых на контрольной работе

Код Номер

задания Описание элементов предметного содержания

1.1.10 А1 Инерция. Первый закон Ньютона

1.1.11 А2, С8,

В7 Второй закон Ньютона

1.1.12 А3,В7 Третий закон Ньютона

1.1.15 А4, С9,

В7 Закон всемирного тяготения. Сила тяжести

1.1.17 А6 Импульс тела. Закон сохранения импульса

1.1.20 А5 Закон сохранения механической энергии

Перевод баллов к 5-балльной отметке

Баллы		Отметка
14-12		5
11 - 10		4
9 - 6		3
меньше 6		2
№ задания	Количество баллов	
1 - 6	1 балл – правильный ответ 0 баллов – неправильный ответ	
7	Максимальное количество баллов -2 Правильно распределено 3 понятия - 2 балла Правильно распределено 2 понятия - 1 балл Правильно распределено 1 понятие - 0 баллов	

8, 9	Максимальное количество баллов – 3
	<p>Если:</p> <ul style="list-style-type: none"> – полностью записано условие, – содержатся пояснения решения, – записаны формулы, – записан перевод единиц измерения в СИ, – вычисления выполнены верно, – записан подробный ответ – 3 балла
	<p>Если:</p> <ul style="list-style-type: none"> – записано условие, – отсутствуют пояснения решения, – записаны формулы, – не записан перевод единиц измерения в СИ, – вычисления выполнены верно, – записан ответ – 2 балла
	<p>Если:</p> <ul style="list-style-type: none"> – записано условие, – отсутствуют пояснения решения, – записаны формулы, – не записан перевод единиц измерения в СИ, – содержится вычислительная ошибка, не искажающая грубо результат, – записан ответ – 1 балл <p>Если ход решения не верный, но присутствует правильный ответ – 0 баллов</p>

Контрольная работа «Динамика» Вариант №1

Уровень А

1. Утверждение, что материальная точка покоится или движется равномерно и прямолинейно, если на нее не действуют другие тела или воздействие на нее других тел взаимно уравновешено,

- 1) верно при любых условиях
- 2) верно в инерциальных системах отсчета
- 3) верно для неинерциальных систем отсчета
- 4) неверно ни в каких системах отсчета

2. Спустившись с горки, санки с мальчиком тормозят с ускорением 2 м/с^2 . Определите величину тормозящей силы, если общая масса мальчика и санок равна 45 кг.

- 1) 22,5 Н 2) 45 Н 3) 47 Н 4) 90 Н

3. Земля притягивает к себе подброшенный мяч силой 3 Н. С какой силой этот мяч притягивает к себе Землю?

- 1) 0,3 Н 2) 3 Н 3) 6 Н 4) 0 Н

4. Сила тяготения между двумя телами увеличится в 2 раза, если массу

- 1) каждого из тел увеличить в 2 раза
- 2) каждого из тел уменьшить в 2 раза
- 3) одного из тел увеличить в 2 раза
- 4) одного из тел уменьшить в 2 раза

5. Найдите кинетическую энергию тела массой 400 г, упавшего с высоты 4 м, в момент удара о землю.

- 1) 16 Дж 2) 1600 Дж 3) 16000 Дж 4) 160 Дж

6. Мальчик массой 30 кг, бегущий со скоростью 3 м/с, вскакивает сзади на платформу массой 15 кг. Чему равна скорость платформы с мальчиком?

- 1) 1 м/с 2) 2 м/с 3) 6 м/с 4) 15 м/с

Уровень В

7. Установите соответствие между физическими законами и их формулами.

К каждой позиции первого столбца подберите соответствующую позицию второго и запишите в таблицу выбранные цифры под соответствующими буквами.

ФИЗИЧЕСКИЕ ЗАКОНЫ

- А) Закон всемирного тяготения Б)
Второй закон Ньютона
В) Третий закон Ньютона

ФОРМУЛЫ

- 1) $\vec{F} = m\vec{a}$
 2) $F = kx$
 3) $\vec{F}_1 = -\vec{F}_2$
 4) $F = G\frac{m_1m_2}{R^2}$
 5) $\sum \vec{F} = 0$

А	Б	В

Уровень С

8. К неподвижному телу массой 20 кг приложили постоянную силу 60 Н. Какой путь пройдет это тело за 12 с?

9. Радиус планеты Марс составляет 0,5 радиуса Земли, а масса — 0,12 массы Земли. Зная ускорение свободного падения на Земле, найдите ускорение свободного падения на Марсе.

**Спецификация КИМ
для проведения Итоговой контрольной работы за курс 9 класса**

Назначение контрольной работы: оценить уровень освоения учащимися 9 класса содержания курса физики.

Содержание контрольных измерительных заданий определяется содержанием рабочей программы по учебному предмету «физика», а также содержанием учебника для общеобразовательных учреждений под редакцией А.В Пёрышкина, Е.М. Гутника.

Контрольная работа состоит из 10 заданий: 8 - задания базового уровня, 2 - повышенного.

**Распределение заданий по уровням сложности,
проверяемым элементам предметного, метапредметного
содержания,
уровню подготовки, типам заданий и времени выполнения**

№ задания	уровень	Что проверяется	Тип задания	Примерное время выполнения задания
A1	Базовый	1.1.5, 2.2.3, 2.2.4, 3.1.1, 3.1.2, 3.1.4. 3.2.6, 3.3	Тест с выбором ответа	2 мин
A2	Базовый	1.1.2, 2.2.3, 2.2.4, 3.1.2, 3.1.4.	Тест с выбором ответа	1 мин
A3	Базовый	1.1.11, 3.1.1, 3.1.2, 3.1.4. 3.2.6, 3.3	Тест с выбором ответа	1 мин
A4	Базовый	1.1.20, 2.2.3, 2.2.4, 3.1.2, 3.1.3, 3.2.6, 3.3	Тест с выбором ответа	2 мин
A5	Базовый	1.1.25, 2.2.3, 2.2.4, 3.1.4	Тест с выбором ответа	2 мин
A6	Базовый	1.3.13, 2.2.3, 2.2.4, 3.1.4	Тест с выбором ответа	2 мин
A7	Базовый	1.4.4, 2.2.3, 2.2.4, 3.1.1	Тест с выбором ответа	5 мин
B8	Базовый	1.1.5, 2.2.1, 2.2.2, 3.1.2	Задание на соответствие, множественный выбор	5 мин
C9	Повышенный	1.4.4, 2.2.3, 2.2.4, 3.1.1, 3.3	Расчётная задача с развёрнутым решением	10 мин
C10	Повышенный	1.1.5, 2.2.3, 2.2.4,	Расчётная задача с	10 мин

На выполнение 10 заданий отводится 40 минут. Контрольная работа составлена в 2-х вариантах. Каждому учащемуся предоставляется распечатка заданий.

Задания в контрольной работе оцениваются в зависимости от сложности задания разным количеством баллов, указанных в таблице.

№ задания	Количество баллов
1 - 7	1 балл – правильный ответ 0 баллов – неправильный ответ
8	Максимальное количество баллов -2 Правильно распределено 3 понятия - 2 балла Правильно распределено 2 понятия - 1 балл Правильно распределено 1 понятие - 0 баллов Максимальное количество баллов – 3
9, 10	Если: <ul style="list-style-type: none"> – полностью записано условие, – содержатся пояснения решения, – записаны формулы, – записан перевод единиц измерения в СИ, – вычисления выполнены верно, – записан подробный ответ – 3 балла Если: <ul style="list-style-type: none"> – записано условие, – отсутствуют пояснения решения, – записаны формулы, – не записан перевод единиц измерения в СИ, – вычисления выполнены верно, – записан ответ – 2 балла Если: <ul style="list-style-type: none"> – записано условие, – отсутствуют пояснения решения, – записаны формулы, – не записан перевод единиц измерения в СИ, – содержится вычислительная ошибка, не искажающая грубо результат, – записан ответ – 1 балл Если ход решения не верный, но присутствует правильный ответ – 0 баллов
Оценка правильности выполнения задания	Оценка правильности выполнения задания (регулятивное УУД): после проверки работы учителем попросить проверить - учащихся свои работы, сверяя их с эталоном ответов (умение оценивать правильность выполнения учебной задачи). Соотнести с отметкой учителя, прокомментировать

Перевод баллов к 5-балльной отметке

Баллы	Отметка
15- 13	5
12 - 10	4
9 - 6	3
меньше 6	2

Итоговая контрольная работа Вариант 2

1. С каким ускорением должен затормозить автомобиль, движущийся со скоростью 36 км/ч, чтобы через 10 с остановиться.

- 1) 10 м/с² 2) 1 м/с² 3) 36 м/с² 4) 3,6 м/с²

2. На рисунках представлены графики зависимости модуля ускорения от времени для разных видов движения. Какой график соответствует равномерному движению? 1) 1 2) 2 3) 3 4) 4

3. Какова масса тела, которому сила 40 Н сообщает ускорение 2 м/с²?

- 1) 20 кг 2) 80 кг 3) 40 кг 4)

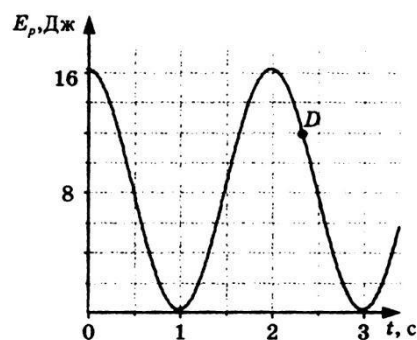
60 кг

4. Мальчик, стоя на коньках, горизонтально бросает камень массой 1 кг. Начальная

скорость камня 3 м/с. Определите скорость мальчика после броска. 1) 30 м/с
2) 3 м/с 3) 0,3 м/с 4) 1 м/с

1. На рисунке представлен график зависимости потенциальной энергии математического маятника (относительно положения его равновесия) от времени. Определите максимальную кинетическую энергию маятника.

- 1) 12 Дж 2) 0 Дж 3) 16 Дж 4) 8 Дж

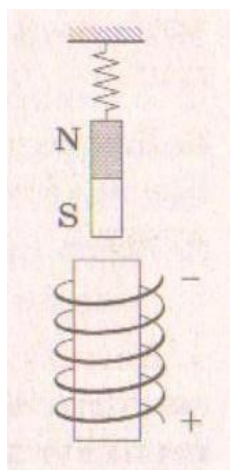


2. В каком направлении будет перемещаться магнит, подвешенный над соленоидом, при включении тока?

- 1) Вверх 2) Вниз 3) Вправо 4) Не будет двигаться

3. Определите количество протонов и нейтронов в ядре атома железа ^{56}Fe .

- 1) $Z = 26, N = 56$ 2) $Z = 26, N = 30$ 3) $Z = 56, N = 30$ 4) $Z = 30, N = 26$



Уровень В

4. Установите соответствие между физическими законами и их формулами. К каждой позиции первого столбца подберите

соответствующую позицию второго и запишите в таблицу выбранные цифры подсоответствующими буквами.

ФИЗИЧЕСКИЕ ЗАКОНЫ

- А) первый закон Ньютона
- Б) закон всемирного тяготения
- В) закон сохранения энергии
- Г) закон сохранения импульса
- Д) Третий закон Ньютона

ФОРМУЛЫ

- 1) $-kx$
- 2) $\vec{F}_1 = -\vec{F}_2$
- 3) $F = \frac{Gm_1m_2}{R^2}$
- 4) $\vec{F} = m\vec{a}$
- 5) $E_{k1} + E_{p1} = E_{k2} + E_{p2}$
- 6) μN
- 7) $m_1v_1 + m_2v_2 = m_1v'_1 + m_2v'_2$

А	Б	В	Г	Д

5. α – частица ${}^4_2\text{He}$, летящая с огромной скоростью, попадает в ядро азота ${}^{14}_7\text{N}$ и выбивает из

него протон ${}^1_1\text{H}$. Какая ещё частица образуется в результате реакции? Запишите уравнение этой ядерной реакции.

6. Скорость автомобиля массой 1000 кг меняется так, как представлено на графике. Чему равна сила тяги двигателя $F_{\text{тяг}}$, если сила сопротивления $F_{\text{сопр}}$ равна 200 Н?

